

河南省 2026 年初中学业水平考试试卷

历史

注意事项:

1. 本试卷共 6 页,分为选择题和非选择题,满分 50 分,考试时间 60 分钟。
2. 开卷考试,可查阅参考资料,但应独立答题,禁止交流资料。
3. 本试卷上不要答题,请按答题卡上注意事项的要求,直接把答案填写在答题卡上。答在试卷上的答案无效。

选择题 (共 20 小题, 20 分)

下列每小题列出的四个选项中,只有一个选项是最符合题目要求的。请将正确选项的字母代号涂写在答题卡相应位置上。

1. 从考古看,二里头文化风格礼器的分布范围北到内蒙,南到长江,西至甘青,东到山东。商朝礼器也曾传播到广大地区,江西、湖南等地的许多遗址都出土过商式青铜礼器。这说明夏商时期
 - A. 青铜礼器系统完备
 - B. 铁器制作工艺高超
 - C. 社会分工日益细化
 - D. 中原文化影响广泛
2. 墨子用“端”表示组成物质不可再分割的最小微粒。他还将力定义为物体运动状态改变的原因。他的这些认识
 - A. 源于政治实践
 - B. 蕴含科学思想
 - C. 关注社会现实
 - D. 服务国家治理
3. 自秦汉大一统体制建立之后,生产与消费都冲破了原来的地域界限,各经济区逐渐融入“财物流通”的经济共同体之中。这说明
 - A. 国家统一加强经济联系
 - B. 交通建设推动商业繁荣
 - C. 经济发展利于社会安定
 - D. 统治政策影响社会风尚
4. 隋唐时期的三省六部制等制度,都是在前代政治文明的基础上改革和创新,从而更加完善。材料强调隋唐时期的政治制度
 - A. 体现民本思想
 - B. 在继承中发展
 - C. 重视官吏考核
 - D. 在交流中完善
5. 据记载,两宋以前,航海业完全靠天上的星宿和地表目标来确定方位。南宋时期,海上航行已使用将东西南北方向细分为 24 个方位的罗盘。从中可以看出宋朝
 - A. 航海技术进步
 - B. 海陆交通发达
 - C. 造船水平提升
 - D. 海外贸易繁荣

12. 1955 年 4 月 5 日,中共中央政治局扩大会议决定,中国代表团参会总方针“应该是争取扩大世界和平统一战线,……并为建立和加强我国同若干亚非国家的事务和外交关系创造条件”。这是为了参加
- A. 日内瓦会议
B. 万隆会议
C. 第 26 届联合国大会
D. 世界贸易组织第四届部长级会议
13. 1988 年,我国颁布了《全民所有制工业企业法》,首次对“所有权与经营权的分离”做出法律界定。该法律的颁布旨在
- A. 实现企业公私合营
B. 推广家庭联产承包责任制
C. 深化经济体制改革
D. 推动对外开放格局的形成
14. 古代希腊城邦的政治制度都有或多或少的民主色彩,这样的环境有利于新的理论和学派的产生。据此可得出的观点是
- A. 政治体制影响文化发展
B. 思想解放推动社会进步
C. 团结合作促进共同发展
D. 交流互鉴丰富文明内涵
15. 11 世纪以后,法学在西欧一部分城市迅速兴起。同时,会计、公证等行业也开始流行。这些现象反映了
- A. 庄园法庭的普及
B. 大学地位的提高
C. 社会发展的需求
D. 近代科学的发展
16. 有学者认为,文艺复兴激起了人们无止境的好奇心,最终发展出一种全新的思考方式,让欧洲迸发出前所未有的创造性。下列可以佐证该观点的是
- A. 自治城市出现
B. 市民阶层形成
C. 英国议会产生
D. 新航路的开辟
17. 从 1787 年开始,法国连续两年农业歉收,制造业也陷入停滞。随之,粮食出现短缺,食品价格上涨,失业人数激增。当时,赤贫者已占总人口的 1/3。材料可用于说明
- A. 启蒙运动兴起的背景
B. 法国大革命爆发的社会根源
C. 法兰西第一帝国覆灭的原因
D. 巴黎公社建立的基础
18. 在 18 世纪 90 年代的英国,纺纱工每纺 100 磅棉花需用时 300 小时。到了 19 世纪 30 年代,同样的工作量仅需 135 小时。出现这一变化的主要原因在于
- A. 手工工场的兴起
B. “珍妮机”的发明
C. 工业革命的推进
D. 内燃机的应用

19. 1932 年,苏联的工业产值在工农业总产值中所占比重由 1928 年的 48%增至 70.7%;职工的全年平均工资比 1928 年增长 68%。这表明苏联“一五”计划
- A. 兼顾工业建设与民生改善 B. 超额完成建设任务
- C. 调整了不合理的工业布局 D. 加速了农业集体化
20. 近年来,全球平均气温不断上升。有学者警告,地球气温每增加一度,就会给地球上的栖息者带来更大危险。这提醒人类要关注
- A. 公共卫生 B. 网络安全
- C. 生态环境 D. 社会保障

非选择题（共 5 小题，30 分）

21. (6 分) 阅读下列材料,回答问题。

材料一



湖南道县玉蟾岩遗址
出土的稻谷
(距今约12000—10000年)



河南新密李家沟遗址
出土的巨型石磨盘
(距今约10500—8600年)



北京门头沟东胡林遗址
出土的炭化粟粒和黍粒
(距今约10000—8000年)

材料二 据学者研究,我国农民在公元前 6 世纪甚至更早就采用垄耕种植法,对土地轮流休耕,以保证地力。唐朝时出现的曲辕犁,操纵灵活、省力,而且能够深耕,一直沿用到近现代。北朝贾思勰撰写的《齐民要术》、明朝徐光启的著作《农政全书》,至今仍闪烁着智慧的光芒。

——摘编自吴军《全球科技通史》

材料三 20 世纪 60 年代,河南林县人民在县委领导下,建成长达 1500 千米的“人工天河”红旗渠,创造了一代中国农民改天换地的传奇。自通水以来,红旗渠的功能从人畜饮水、农田灌溉增至工业供水、生态补水。一幅“渠清水绿、业兴民富”的画卷正徐徐铺展。

——摘编自中国历史研究院《(新编)中国通史纲要:全二册》

- (1) 据材料一,你能获取什么历史信息?(2 分)
- (2) 据材料二,概括我国古代农业取得了哪些方面的成就。(3 分)
- (3) 综合以上探究,你能从我国农业发展历程中汲取怎样的智慧?(1 分)

22.(6分)阅读下列材料,回答问题。

材料一 古田会议决议着重强调从思想上建党。从思想上建党,这是中国共产党自身建设的一大理论创新,也是古田会议决议的精髓所在。

——摘编自李颖《文献中的百年党史》

材料二 红军到达陕北后,中共中央大力加强党自身建设。到1938年底,全国党员人数从全民族抗战爆发时的4万多人增加到50多万人。1939年,陈云撰写《怎样做一个共产党员》、张闻天发表《共产党员的权利与义务》……,这些论著为党员教育提供了重要教材。1945年,党的七大确立毛泽东思想为党的指导思想,全党达到空前的团结。

——摘编自《中国共产党简史》编写组《中国共产党简史》

材料三 党的十八大强调,形势的发展、事业的开拓、人民的期待,都要求我们以改革创新精神全面推进党的建设新的伟大工程,全面提高党的建设科学化水平。

——摘编自张士义等《从一大到十九大:中国共产党全国代表大会史》

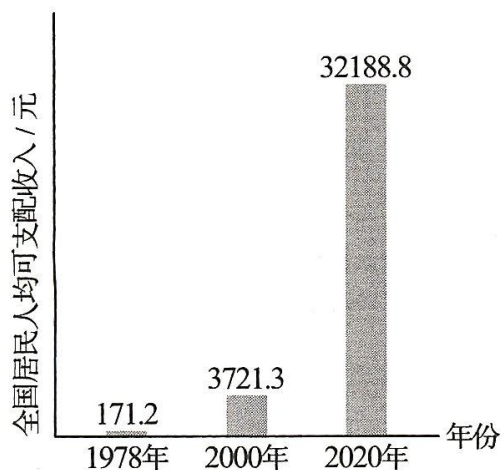
- (1)据材料一,指出古田会议所关注的工作。(1分)
- (2)据材料二并结合所学知识,概括这一时期中国共产党加强自身建设的作用。(3分)
- (3)综上所述,你能看出中国共产党的哪些优良作风?(2分)

23.(6分)阅读下列材料,回答问题。

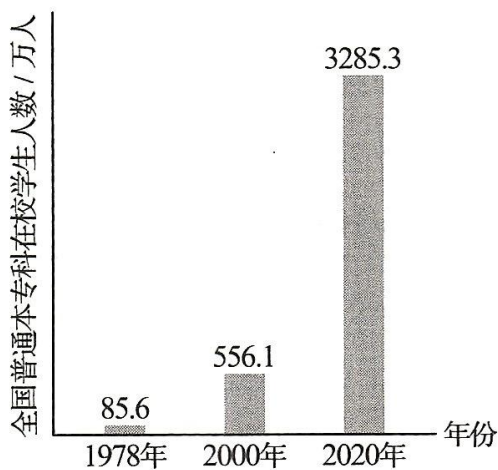
材料一 “民亦劳止,汔(qì,这里表希望)可小康”是《诗经》中的诗句。1979年,邓小平第一次用“小康”概念来描述我国现代化建设所要达到的目标水平。

——摘编自刘志新《百年党史关键词》

材料二



1978年以来我国居民人均可支配收入情况



1978年以来我国普通本专科在校学生情况

材料三 党的十二大提出,到20世纪末,使人民物质文化生活达到小康水平。此后,党的历次全国代表会议和国家的长期发展规划,都对小康前景作出具体设计,全国人民也凝聚在一起,一心一意奔小康。从“总体小康”到“全面建设小康社会”再到“全面建成小康社会”,党领导人民一步步接近胜利的目标。2021年,我国全面建成小康社会目标如期实现,实现中华民族伟大复兴迈出了关键一步。

——摘编自中共中央党史和文献研究院《中国共产党的一百年》

(1)材料一中的“小康”反映了自古以来我国人民怎样的追求?(1分)

(2)据材料二,指出这一时期我国社会的变化,并结合材料三说明其原因。(4分)

(3)请举一例我国全面建成小康社会目标如期实现后取得的成就。(1分)

24. (6分)阅读下列材料,回答问题。


材料一 早在原始社会末期,我国先民们为从事农业生产,对天文现象进行观察和记录,总结日月星辰的运行规律。至商代,已形成了较为完备的历法。由于生产活动的需要,古埃及人也对各种天象进行观测,他们通过观察尼罗河定期泛滥与天狼星的运行而得到灵感,从而创造了历法。

——摘编自王斯德《世界通史·第一编,古代文明与地域性历史:1500年以前的世界》

材料二 17世纪,牛顿建立的经典力学理论架构,使人们认识到天体和地面上的物体一样,服从统一的运动规律;18世纪,天王星的发现彻底改变了人类对太阳系的认识;19世纪,人类测定了地球到附近恒星的距离。

——摘编自苏宜《天文学新概论》

材料三



1957年发射成功的
人类第一颗人造地球卫星



2003年,“神舟五号”飞船
圆满完成我国首次载人航天飞行

(1)据材料一,指出我国与埃及天文观测的相似之处。(2分)

(2)据材料二和材料三,概括近代以来人类探索太空的特点。(3分)

(3)结合实际,谈谈太空探索对今天人们生产生活的影响。(1分)

25. (6分)请阅读下面材料,围绕该观点,结合所学历史知识,写一篇80~120字的小短文。(要求:题目自拟,观点明确;史实正确;条理清晰,语句通顺,表述完整)

社会的每一次发展都是由多种力量博弈而成的,正是这种多重力量的存在,使得社会更为自由。

——摘编自李宏图《欧洲文明的现代历程》